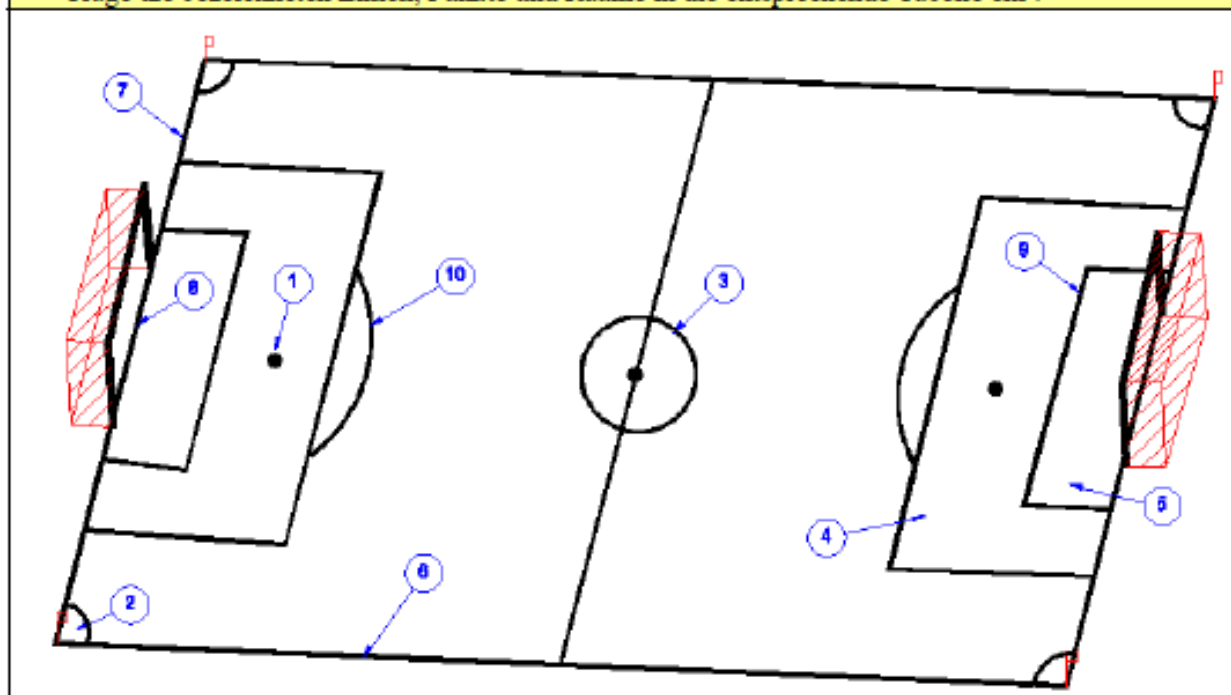


5. Fußball

5.1. Spielfeld:

- Trage die bezeichneten Linien, Punkte und Räume in die entsprechende Tabelle ein !



<input type="checkbox"/>	Strafraum	<input type="checkbox"/>	Seitenauslinie
<input type="checkbox"/>	Anstoßkreis	<input type="checkbox"/>	Eckraum
<input type="checkbox"/>	Elfmeterpunkt	<input type="checkbox"/>	Torraum
<input type="checkbox"/>	Torlinie	<input type="checkbox"/>	Teilkreis am Strafraum
<input type="checkbox"/>	Torauslinie	<input type="checkbox"/>	Abstoßlinie

5.2. Wie lang und wie breit soll ein Fußballfeld sein (Länderspielmaße) ?

Kreuze richtige Lösung an !

<input type="checkbox"/>	90 m breit und 120 m lang
<input type="checkbox"/>	45 m breit und 90 m lang
<input type="checkbox"/>	64 –75 m breit und 100 - 110 m lang
<input type="checkbox"/>	80 m breit und 100 m lang

5.3. Welche Ausmaße hat ein Fußballtor ?

Kreuze richtige Lösung an !

<input type="checkbox"/>	6,00 m breit und 2,42 m hoch
<input type="checkbox"/>	5,50 m breit und 2,00 m hoch
<input type="checkbox"/>	9,15 m breit und 2,40 m hoch
<input type="checkbox"/>	7,32 m breit und 2,44 m hoch

5.4. Wie lange dauert ein Fußballspiel im Männerbereich?

(A) 2 x 30 min (B) 2 x 35 min (C) 2 x 40 min (D) 2 x 45 min

Trage in Tabelle ein!

<input type="checkbox"/>	Senioren
<input type="checkbox"/>	A-Jugend
<input type="checkbox"/>	B-Jugend
<input type="checkbox"/>	C-Jugend






5.5. Wann gibt es (A) direkten Freistoß, (B) indirekten Freistoß oder (C) Strafstoß ?	Trage in Tabelle ein!
Der Torwart berührt den Ball, den ein Mitspieler ihm absichtlich mit den Fuß zugespielt hat !	
Ein Spieler schlägt seinen Gegenspieler oder versucht ihn zu schlagen	
Ein Spieler hält im eigenen Strafraum seinen Gegenspieler mit der Hand am Trikot fest !	
Ein Spieler führt im eigenen Strafraum einen Fallrückzieher am Gegenspieler durch !	
Ein Spieler beleidigt im eigenen Strafraum den Schiedsrichter !	
Ein Spieler berührt beim Tackling im Kampf um den Ball den Gegner vor dem Ball !	

5.6. Welche Spielsysteme gibt es im modernen Fußball ? (Reihenfolge: Verteidiger – Mittelfeldspieler – Stürmer)	Kreuze richtige Lösung an !
2 – 3 – 5 -Spielsystem	
2 – 4 – 4 -Spielsystem	
4 – 3 – 3 -Spielsystem	
4 – 4 – 2 -Spielsystem	
5 – 3 – 2 -Spielsystem	

5.7. Was ist (A) Pressing und was ist (B) Forechecking ?	Ordne zu!
Der Gegner wird schon in dessen Hälfte angegriffen und sein Spielaufbau dadurch gestört !	
Jeder Abwehrspieler oder Spieler hat allgemein einen festen Gegenspieler, an den er gebunden ist!	
Jeder Abwehrspieler erhält einen bestimmten Raum zugeteilt, in dem er Deckungsaufgaben zu erfüllen hat !	
Alle Feldspieler stürmen, ziehen sich aber sofort nach einem erfolgten Angriff in die eigene Spielhälfte zurück und erwarten den Gegner !	

5.8. Welche Möglichkeiten der Ballannahme gibt es ?	Zähle min. 4 Beispiele auf !
X	
X	
X	
X	

5.9. Aufgaben des Schiedsrichters (A) und der beiden Schiedsrichter-Assistenten (B) ?	Ordne zu!
Tatsachenentscheidungen	
Spielabbruch	
Anzeigen einer Abseitsstellung	
Schriftliche Aufzeichnungen	
Überwachen und Durchsetzen der Regeleinhaltung	
Nachspielzeit wegen Spielverzögerungen oder anderen Spielunterbrechungen	
Verwarnungen und Platzverweis	
Anzeigen einer „Ball aus dem Spiel-Situation“	

5.10. Signale des Schiedsrichters und Schiedsrichter-Assistenten ?				Benenne die Signale !
				

Grafiken aus „www.tvf.at/sites/fussballregeln/srsignalerreferee + srsignaleassi“

5.11. Statistik der Deutsche Fußball-Nationalmannschaft	Beantworte die einzelnen Fragen !
<ul style="list-style-type: none"> Wie oft wurde Deutschland Fußball-Weltmeister ? 	
<ul style="list-style-type: none"> Wann wurde Deutschland Fußball-Weltmeister ? 	
<ul style="list-style-type: none"> Wie heißt der deutsche Rekordnationalspieler mit 150 Einsätzen ? 	
<ul style="list-style-type: none"> Wie heißt der Rekordtorschütze in der deutschen Nationalmannschaft mit 68 Treffern ? 	
<ul style="list-style-type: none"> Nenne mindestens vier von den acht Trainern, die jemals die deutsche Nationalmannschaft betreut haben ! 	
   	
   	
Bilder aus „www.dfb.de/dfb-team/nationalteam/statistik“	

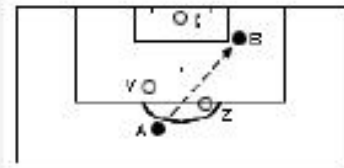
5.12. „Abseits“ oder „nicht abseits“ ? 8 Fallbeispiele

Kreuze richtige Lösung an !

1. Pass zu einem Spieler der eigenen Mannschaft

abseits

nicht abseits



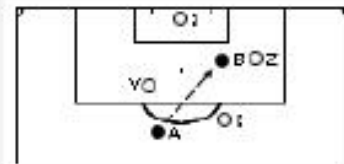
Alle Abseitsgrafiken aus „www.tfv.at/sr/sites/fussballregeln/sr/ihregel11“

A spielt den Ball zu B. B ist vor A und im Augenblick, als ihm der Ball von A zugespielt wird, näher der gegnerischen Torlinie als der vorletzte Abwehrspieler.

2. Pass zu einem Spieler der eigenen Mannschaft

abseits

nicht abseits

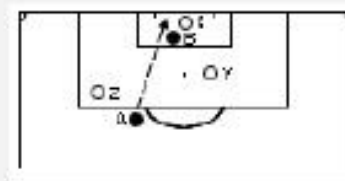


A spielt den Ball vorwärts zu B, der mit dem zweithintersten Verteidiger auf gleicher Höhe ist.

3. Behindern eines Gegners

abseits

nicht abseits

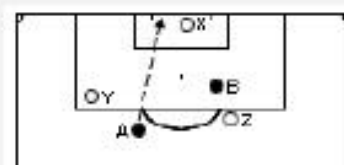


A schießt und erzielt ein Tor. B steht vor dem Torhüter und verdeckt dem gegnerischen Torhüter die Sicht.

4. Schuss aufs Tor

abseits

nicht abseits



A schießt und erzielt ein Tor. B befindet sich in einer Abseitsposition, greift aber nicht aktiv ins Spiel ein.

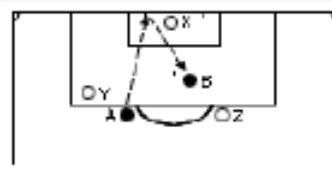
5.12. „Abseits“ oder „nicht abseits“ ? - Fortsetzung

Kreuze richtige Lösung an !

5. Der Ball prallt vom Torpfosten ab

abseits

nicht abseits

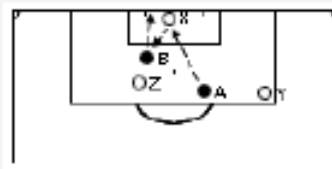


A schießt auf das Tor, und der Ball prallt vom Pfosten ab zu B, der ein Tor erzielt. B befindet sich, als A den Ball zuletzt spielt, in einer Abseitsstellung.

6. Der Ball prallt vom Torhüter ab

abseits

nicht abseits

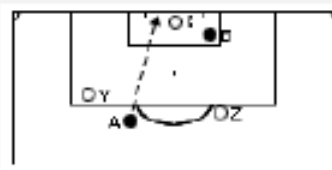


A schießt auf das Tor. Der Ball wird vom Torhüter abgewehrt und gelangt in den Besitz von B. B befindet sich in einer Abseitsposition als A den Ball zuletzt spielt.

7. Der Gegner wird nicht behindert

abseits

nicht abseits

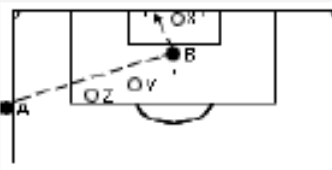


A schießt und erzielt ein Tor. B liegt verletzt in einer Abseitsposition am Boden, greift aber nicht aktiv ins Spiel ein.

8. Einwurf

abseits

nicht abseits



A wirft den Ball zu B, der ein Tor erzielt. B ist vor dem Ball und es befindet sich nur ein Gegner zwischen ihm und der Torlinie.